

**CONVOCATORIA PARA LA
CONSTITUCIÓN, A TRAVÉS DE
PRUEBAS SELECTIVAS, DE UNA
RELACIÓN DE ASPIRANTES AL
DESEMPEÑO DEL PUESTO DE
TRABAJO DE PEÓN DE ALMACÉN,
MEDIANTE CONTRATACIÓN
TEMPORAL**

Tipo Examen A

**(Resolución 28/2022, de 2 de febrero, de la Directora del Servicio de
Selección y Provisión de Personal Docente)**

| | |
|-----|---|
| 1.- | Conforme al artículo 29 de la Ley Prevención de Riesgos Laborales, los trabajadores con arreglo a su formación y siguiendo las instrucciones del empresario, deberán en particular: |
| | a) Usar adecuadamente, de acuerdo con su naturaleza y los riesgos previsibles, las máquinas, aparatos, herramientas, sustancias peligrosas, equipo de transporte y en general cualesquiera otros medios con los que desarrollen su actividad. |
| | b) Usar adecuadamente los medios y equipos de protección facilitados por el empresario, de acuerdo con las instrucciones recibidas de éste. |
| | c) Cooperar con el empresario para que este pueda garantizar unas condiciones de trabajo que sean seguras y no entrañen riesgos para la seguridad y la salud de los trabajadores. |
| | d) Todas son correctas. |


| | |
|-----|---|
| 2.- | Las trabajadoras embarazadas tendrán derecho a ausentarse del trabajo, con derecho a remuneración, para la realización de exámenes prenatales y técnicas de preparación al parto según el artículo 26 de la Ley 31/1995, de 8 de noviembre, de Prevención de Riesgos Laborales: |
| | a) No tienen derecho a ausentarse del trabajo en ningún caso. |
| | b) Previo aviso al empresario y justificación de la necesidad de su realización dentro de la jornada de trabajo. |
| | c) Solo cuando el embarazo haya sido declarado de alto riesgo. |
| | d) El período de ausencia no será remunerado. |


| | |
|-----|---|
| 3.- | La conducta "PAS" se forma con las iniciales: |
| | a) Prevenir, Alertar y Socorrer. |
| | b) Proteger, Alertar y Socorrer. |
| | c) Prevenir, Alertar y Salvar. |
| | d) Prevenir, Alertar y Solucionar. |


| | |
|-----|---|
| 4.- | Los principios generales de la acción preventiva se regulan en el artículo 15 de la Ley de Prevención de Riesgos Laborales. Estos principios son: |
| | a) Evitar los riesgos. |
| | b) Evaluar los riesgos que no se puedan evitar. |
| | c) Adaptar el puesto de trabajo a la persona, los equipos, los métodos de trabajo y de producción. |
| | d) Todas son correctas. |


| | |
|-----|--|
| 5.- | Con respecto a las medidas de protección individual, cuál es la definición más adecuada: |
| | a) Son aquellas que protegen simultáneamente a todas las personas expuestas a un determinado riesgo. |
| | b) Son aquellas que se encargan de proteger al trabajador de un riesgo específico de su medio laboral. |
| | c) a y b son correctas. |
| | d) a y b son incorrectas. |


| | |
|-----|---|
| 6.- | Las obligaciones para los trabajadores respecto a los EPI son: |
| | a) Utilizar y cuidar correctamente los EPI. |
| | b) Colocar el equipo en el lugar indicado después de su utilización. |
| | c) Informar de inmediato a un superior de cualquier defecto o daño apreciado en el equipo utilizado que, a su juicio, puede entrañar una pérdida de su eficacia protectora. |
| | d) Todas las respuestas son correctas. |

| | |
|---|---|
| 7.- | La siguiente señal indica: |
|  | a) Prohibido pasar a los peatones. |
| | b) Prohibido fumar y encender fuego. |
| | c) No tocar. |
| | d) Entrada prohibida a personas no autorizadas. |

| | |
|--|--|
| 8.- | La siguiente señal indica: |
|  | a) Protección obligatoria de la cara. |
| | b) Protección obligatoria de la cabeza. |
| | c) Protección obligatoria de las vías respiratorias. |
| | d) Protección obligatoria del oído. |

| | |
|---|-----------------------------|
| 9.- | La siguiente señal indica: |
|  | a) Riesgo eléctrico. |
| | b) Materias inflamables. |
| | c) Peligro en general. |
| | d) Campo magnético intenso. |

| | |
|---|-----------------------------|
| 10.- | La siguiente señal indica: |
|  | a) Cargas suspendidas. |
| | b) Materias inflamables. |
| | c) Materias radiactivas. |
| | d) Campo magnético intenso. |

| | |
|---|----------------------------|
| 11.- | La siguiente señal indica: |
|  | a) Teléfono de salvamento. |
| | b) Camilla. |
| | c) No pasar. |
| | d) Primeros auxilios. |

| | |
|------|--------------------------------|
| 12.- | ¿Qué palabra está mal escrita? |
| | a) Alvarán. |
| | b) Factura. |
| | c) Mueble. |
| | d) Gaveta. |

| | |
|------|---|
| 13.- | De la siguiente lista de palabras, encuentra la palabra escrita sin errores ortográficos: |
| | a) Úvas. |
| | b) Sermon. |
| | c) Fácilmente. |
| | d) Nibel. |

| | |
|------|---|
| 14.- | ¿Cuál es la letra que más se repite? e b c a e c a c e b c a c e e a e c e a c c e a a e c e |
| | a) b |
| | b) e |
| | c) c |
| | d) a |

| | |
|------|--|
| 15.- | ¿Cuántos años le faltan a una mujer de 32 años para cumplir 58 años? |
| | a) 26 |
| | b) 20 |
| | c) 24 |
| | d) 22 |

| | |
|------|--|
| 16.- | Realiza la siguiente operación: 30% de 60: |
| | a) 15 |
| | b) 18 |
| | c) 12 |
| | d) 10 |

| | |
|------|---|
| 17.- | En enero, llegan al almacén 40 cajas de 2.000 unidades de mascarillas cada una. Hay que preparar la distribución de 50 mascarillas para cada profesor y profesora. ¿A cuántas personas podremos repartir mascarillas con la entrega de enero? |
| | a) 1.800. |
| | b) 1.600. |
| | c) 1.900. |
| | d) 1.500. |

| | |
|------|---|
| 18.- | Una clase mide 9 metros de largo y 6 metros de ancho. Si no hubiera que mantener distancia de separación entre pupitres y estos fueran de 70cm de largo y 50cm de fondo, ¿cuántos pupitres en línea se podrían disponer a lo ancho de la clase? |
| | a) 8 pupitres. |
| | b) 7 pupitres. |
| | c) 9 pupitres. |
| | d) 10 pupitres. |

| | |
|------|-----------------------------|
| 19.- | ¿A cuánto equivalen 1,60 m? |
| | a) 16 cm. |
| | b) 16 mm. |
| | c) 160 cm. |
| | d) 160 mm. |

| | |
|------|---|
| 20.- | Encuentra el número que completa la serie: 0, 4, 8, 12, 16, 20,-----, 28, 32 |
| | a) 22. |
| | b) 23 |
| | c) 24 |
| | d) 26 |

| | |
|------|---|
| 21.- | Señale cuál de los siguientes números tiene todas las cifras pares: |
| | a) 68424864. |
| | b) 84665234. |
| | c) 26682416. |
| | d) 64844528. |

| | |
|------|---|
| 22.- | El uso adecuado para una llave Allen es: |
| | a) Atornillar y encajar cualquier tornillo con acabado en su cabeza de forma hexagonal. |
| | b) Cortar madera, piedra u otros objetos duros, que generalmente consiste en una hoja de acero dentada sujeta a una empuñadura, bastidor o armazón. |
| | c) Unir a escuadra los trozos de una moldura. |
| | d) Todas las respuestas son correctas. |

| | |
|------|----------------------------|
| 23.- | La capital de Cataluña es: |
| | a) Lleida. |
| | b) Tarragona. |
| | c) Girona. |
| | d) Barcelona. |

| | |
|------|---|
| 24.- | La Comunidad Foral de Navarra limita al este con: |
| | a) La Rioja. |
| | b) Cataluña. |
| | c) Andalucía. |
| | d) Aragón. |

| | |
|------|---|
| 25.- | Se entenderá por manipulación manual de cargas, cualquier operación de transporte o sujeción de una carga por parte de uno o varios trabajadores, como: |
| | a) El levantamiento |
| | b) La colocación, la tracción o el desplazamiento. |
| | c) El empuje. |
| | d) Todas las anteriores son correctas. |

| | |
|------|---|
| 26.- | ¿Cuál de estas reglas NO se debe seguir en el momento de levantar una carga? |
| | a) Separar los pies hasta conseguir una postura estable. |
| | b) Flexionar ligeramente las rodillas, formando un ángulo de 90º aproximadamente. |
| | c) Acercar el objeto al cuerpo lo máximo posible. |
| | d) Levantar el peso lo más rápidamente posible. |

| | |
|------|--|
| 27.- | Las lesiones lumbares más características producidas por una incorrecta manipulación manual de las cargas son: |
| | a) Lumbago agudo, hernia discal y ciática. |
| | b) Neumonía. |
| | c) Depresión. |
| | d) Asma. |

| | |
|------|--|
| 28.- | El ritmo impuesto por un proceso que el trabajador o trabajadora no puede modular, dentro de qué factor de riesgo se puede englobar: |
| | a) Características de la carga. |
| | b) Factores individuales de riesgo. |
| | c) Exigencia de la actividad. |
| | d) Ninguna de las anteriores. |

| | |
|------|---|
| 29.- | Se considera Carga a todo objeto que tenga un peso de las siguientes características: |
| | a) Pese más de 5 kg. |
| | b) Cualquier peso, siempre que deba de ser manipulado. |
| | c) Tenga un peso superior a 3 kg. |
| | d) Pese más de 10 kg. |

| | |
|------|--|
| 30.- | ¿Qué factores son tenidos en cuenta para la evaluación ergonómica de acuerdo a la Norma ISO TR 12295:2014? |
| | a) Levantamiento de cargas, transporte de cargas y empuje y/o tracción de cargas. |
| | b) Posturas forzadas. |
| | c) Movimientos repetitivos. |
| | d) Todas las respuestas anteriores son ciertas. |