



FICHA II: Regiones bioclimáticas de Navarra

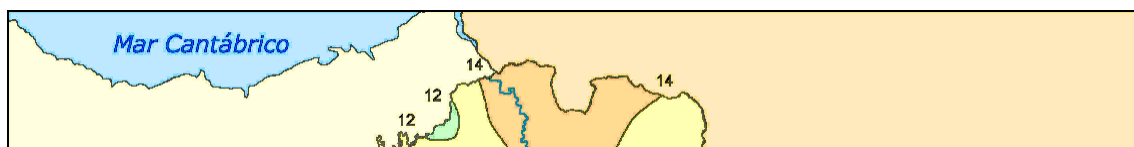
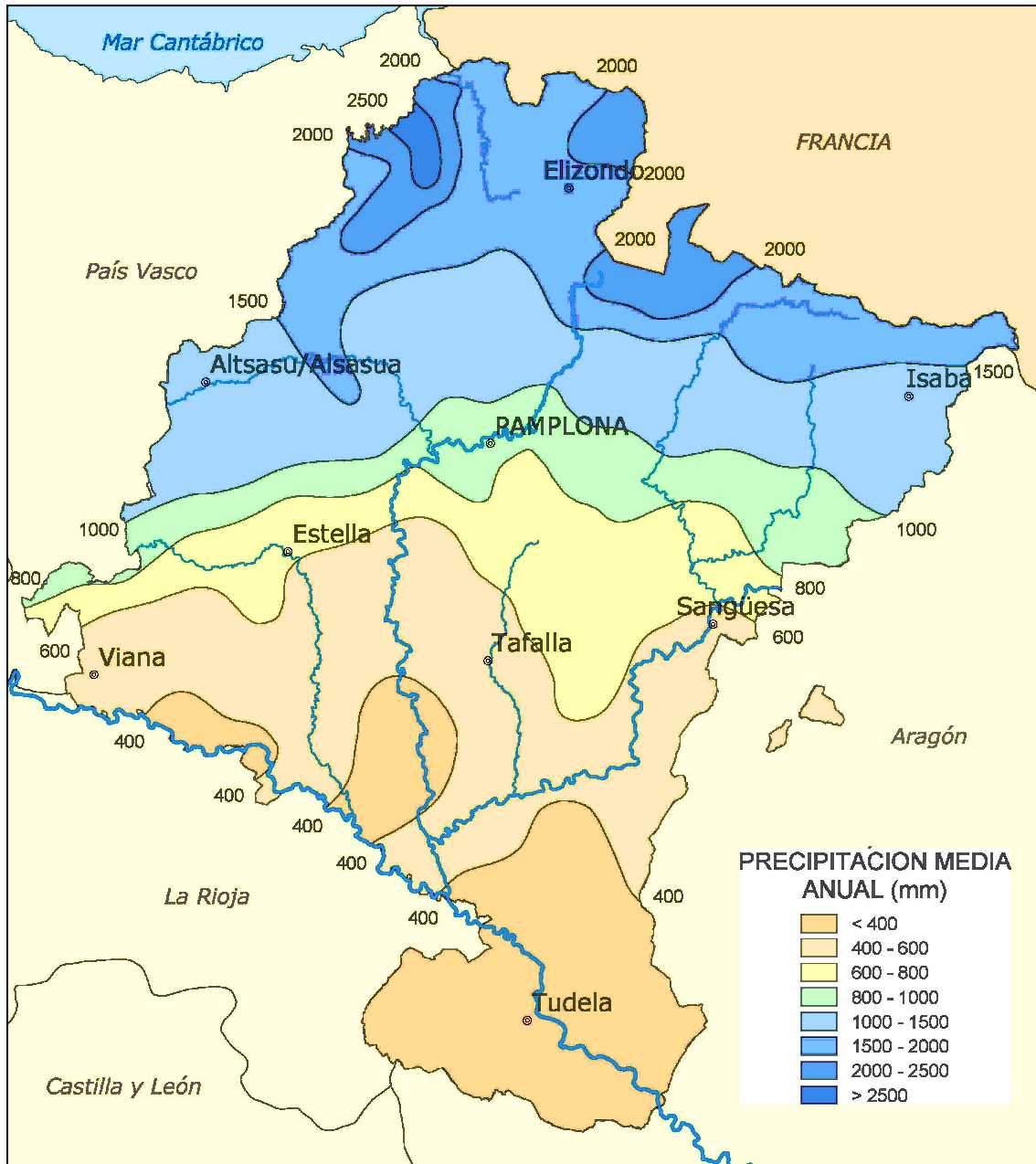
- ¿Cuál crees que es la precipitación (lluvia) y la temperatura que hace en estos lugares de Navarra? Identifica y coloca el nombre de la región bioclimática en la imagen que corresponde. Recorta la imagen y pégala en el mapa, dentro de la región a la que corresponde.

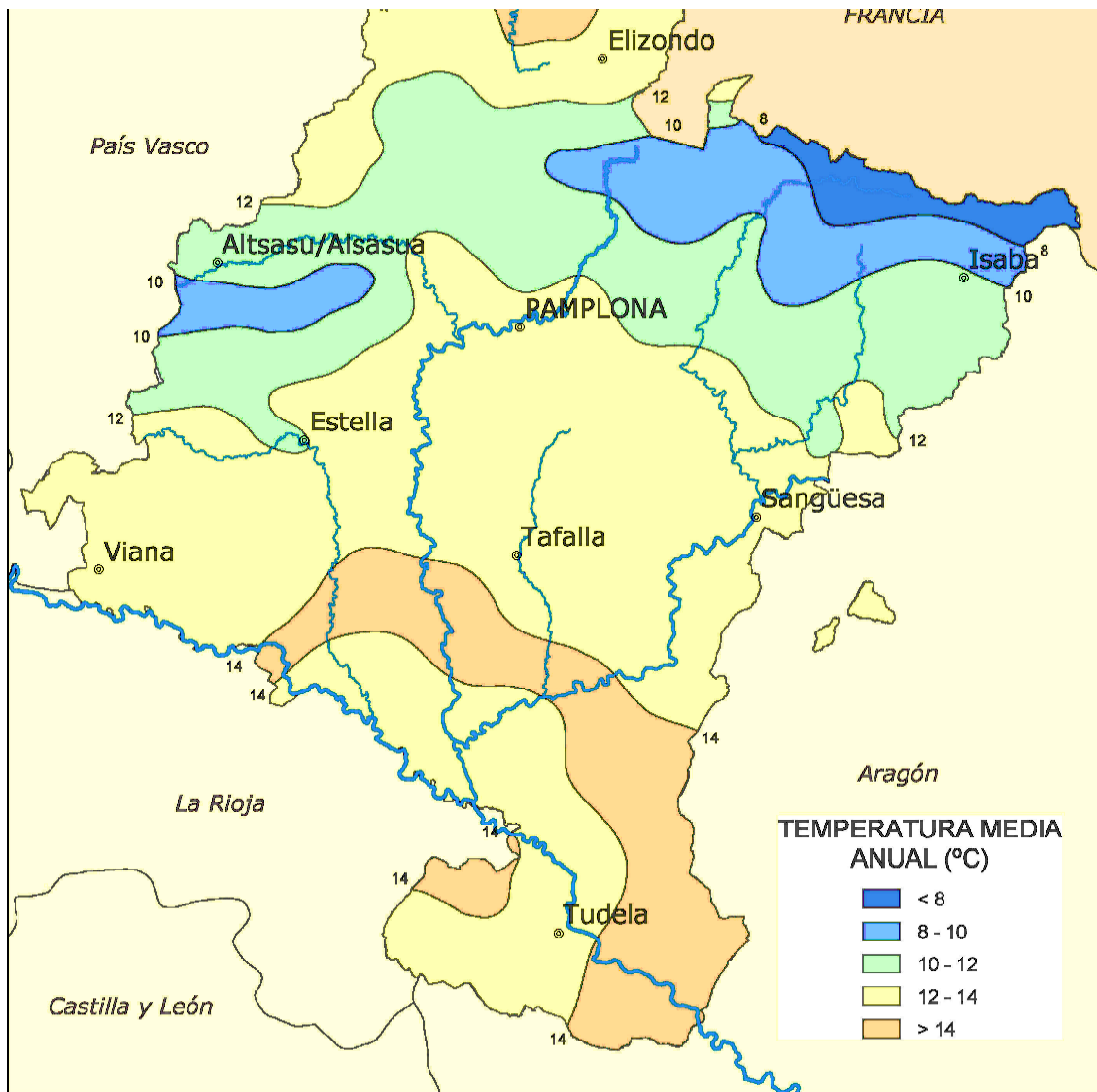
Atlántica - Zona Media - Mediterránea - Pirenaica

Regiones bioclimáticas de Navarra	Precipitación (Lluvia)	Temperatura
	Poca <input type="checkbox"/> Regular <input type="checkbox"/> Mucha <input type="checkbox"/>	Baja <input type="checkbox"/> Media <input type="checkbox"/> Alta <input type="checkbox"/>
	Poca <input type="checkbox"/> Regular <input type="checkbox"/> Mucha <input type="checkbox"/>	Baja <input type="checkbox"/> Media <input type="checkbox"/> Alta <input type="checkbox"/>
	Poca <input type="checkbox"/> Regular <input type="checkbox"/> Mucha <input type="checkbox"/>	Baja <input type="checkbox"/> Media <input type="checkbox"/> Alta <input type="checkbox"/>
	Poca <input type="checkbox"/> Regular <input type="checkbox"/> Mucha <input type="checkbox"/>	Baja <input type="checkbox"/> Media <input type="checkbox"/> Alta <input type="checkbox"/>

Recordar que la temperatura media anual en Baztán es bastante similar a la de la Ribera (lo podéis ver en el mapa de temperaturas medias).

- Señalad vuestra localidad en los mapas de precipitación media anual y temperatura media anual de Navarra. ¿Cuál es la temperatura media anual y precipitación media anual de vuestro municipio?





Busca en la web <http://meteo.navarra.es> o en la aplicación informática, las temperaturas medias de tu localidad el año pasado y dibuja una gráfica con ellas, sacando la temperatura media anual.

- ¿En qué región bioclimática vives?

- Une mediante flechas las zonas bioclimáticas y las frases que correspondan a cada una. Apunta las precipitaciones y temperatura media anuales de esta zona

Clima en región Atlántica:
Abundantes lluvias y temperaturas suaves.
La precipitación media anual va de 1.100 a 2.500 mm y la temperatura media anual entre 8,5 y 14,5 °C.



Clima en región Pirenaica:
Es húmedo, frío, con nevadas La temperatura media anual entre 7 y 13 °C y la precipitación media anual es de 700 a 2.200 mm.



Clima en Zona media:
Menos lluviosa, tiene una estación seca, que es el verano. La precipitación anual varía de los 1100 l/m², a los 450 l/m². La temperatura media anual va de los 11 a los 14°C.



Mediterránea.
El clima con veranos secos, pocas lluvias (menos de 500 mm anuales). La temperatura media anual está en torno a los 14 °C.



Esta es la zona de Navarra, donde mayor producción tienen los paneles solares fotovoltaicos, que producen electricidad.

Esta es la zona de Navarra en la que podemos encontrar más hayas (este árbol necesita temperaturas frescas y humedad).

En esta zona encontramos los principales campos de cereales (trigo, cebada,...)

En esta zona de Navarra es donde se encuentran las principales pistas de esquí y de raquetas de nieve.

